



第三单元达标测试卷

冀教版



时间：60分钟 满分：100分

题号	一	二	三	四	五	六	七	总分
得分								

一、填空。(共16分)

1. $5 + () + () = 5 \times 3$

2. 求2个4相加是多少,写出乘法算式是()。

3. 一个乘数是3,另一个乘数是6,积是()。

4. 4×3 读作(), 3×4 读作()。5. $6 + 6 = ()$,写成乘法算式是()。

二、把口诀补充完整。(共8分)

一()得三 () ()得一 三()十二

五()三十 ()三得六 三()得九

三、在○里填上“>”“<”或“=”。(共8分)

$4 + 4 \bigcirc 8$

$1 \times 1 \bigcirc 2$

$3 \times 5 \bigcirc 2 \times 6$

$1 \times 6 \bigcirc 1 + 7$

$12 \bigcirc 3 \times 4$

$3 + 2 \bigcirc 4$

$8 + 16 \bigcirc 5 \times 6$

$2 + 7 \bigcirc 2 \times 4$

四、判断。(共12分)

1. 每句乘法口诀都可以写出两个乘法算式。()

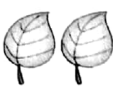
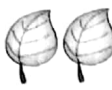


2. $6 \times 3 = 18$ 读作3乘6等于18。()




3. 3个8相加,和是11。()




4. 一个乘数是3,另一个乘数是4,积是7。()

5. 2和6相乘能写成加法算式 $2 + 6$ 。()

五、看图列式计算。(共 6 分)

1.    
- 加法算式: _____
- 乘法算是: _____ 或 _____
- 口诀: _____

2.   
- 加法算式: _____
- 乘法算是: _____ 或 _____
- 口诀: _____

3.   
- 加法算式: _____
- 乘法算是: _____ 或 _____
- 口诀: _____

六、找伙伴,连线。(共 8 分)

$$6+6+6$$

$$4+4+4+4$$

$$4 \times 3$$

$$5+5+5+5+5$$

$$5 \times 5$$

$$3+3+3+3$$

$$4 \times 4$$

$$6 \times 3$$

七、能力综合练。(共 42 分)

1. 一共有多少棵小树苗?(5 分)



2. 5 月份的第二个星期日是母亲节,红红要买 5 束花送给妈妈,每束 3 元钱,需要会多少钱? (5 分)

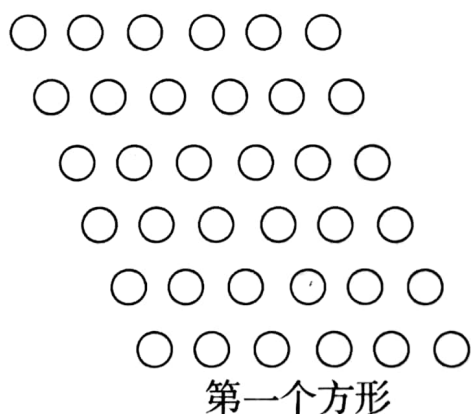
3. 一根木棒长 4 厘米把这样的 5 根木棒连接在一起,有 50 厘米长吗? (5 分)

4. 我一天攒下 5 角钱,6 天能攒下多少角钱呢? (5 分)

加法算式: _____

乘法算式: $\square \times \square = \square$ (角) 或 $\square \times \square = \square$ (角)

5. 61 个圆球摆成两个方形。(9 分)



(1) 第一个方形有多少个圆球?

(2) 第二方形每排有多少个圆球?



(3)你还能提出什么数学问题? 并回答。

6. 2011年秋季学期农村义务教育阶段家庭经济困难寄宿生生活费补助标准达到每名小学生每天4元,5名小学生1天补助多少钱?(5分)

7. 下面的小动物代表多少(3分)

$$\text{🐱} + \text{🐱} + \text{🐱} + \text{🐱} = 12$$

$$\text{🐱} = (\quad)$$

8. 张老师把一根彩绳对折两次后,量得长是2分米,这根彩绳长多少厘米?(5分)

一根彩绳对折两次后变成了4段。



9. 你能用乘法算出下面的加法得数吗?(5分)

$$7+7+7+7=28$$

这个我来算:

$$2+2+2+2=8$$

这个我来算:

